



**UNIVERSIDAD NACIONAL DE ASUNCIÓN**

Colegio Experimental Paraguay - Brasil  
Comandante Gamarra y Gobernador Irala (Itápytapunta)  
Teléfonos: 423315 - 423320 –Fax: 425888  
E-mail: colegio@cepb.una.py  
Asunción - Paraguay

---

**Materia:** Ciencias Naturales y Salud

**Tarea para casa**

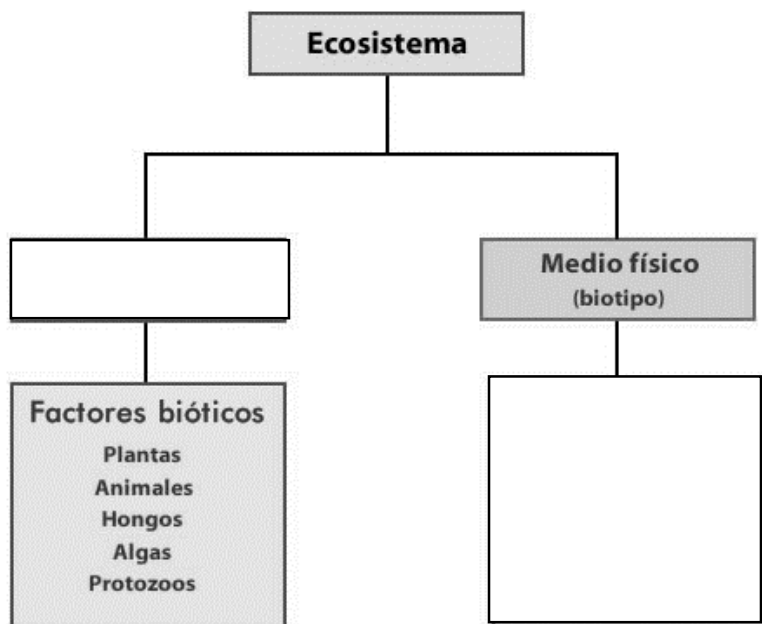
**Grado:** Cuarto

**Turnos:** Mañana y Tarde

**Profesoras:** Lic. Miriam Schupp Vaucher.

**Nombre**.....

**1- Completo el cuadro sobre ecosistema.**



**2. Escribo de que parte de la flor se trata.**

- Está formado por los pétalos de la flor. ▶ \_\_\_\_\_
- Tiene sépalos. ▶ \_\_\_\_\_
- Es la parte masculina de la flor. ▶ \_\_\_\_\_
- Es la parte femenina de la flor. ▶ \_\_\_\_\_

**3-Completo los siguientes ejercicios sobre los vertebrados. Pinto los dibujos**

Enumera los grupos de animales vertebrados.

---



---

Indica a qué grupo de vertebrados pertenece cada animal.

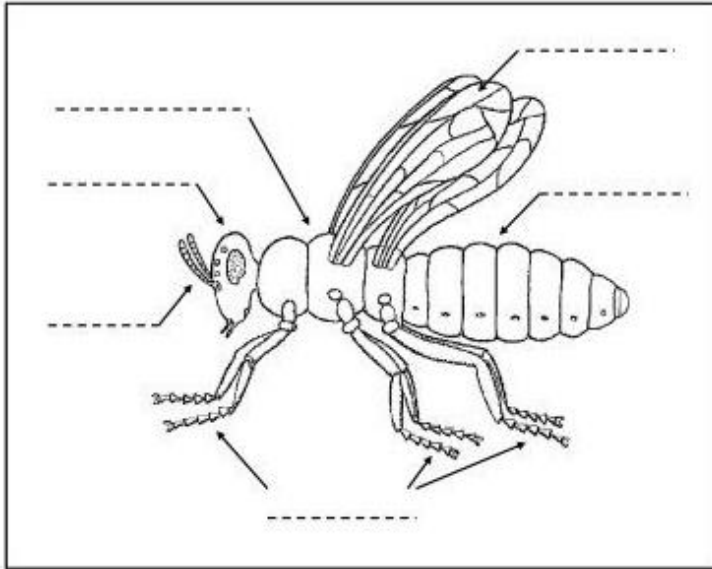



---



---

**4- Completo las partes del insecto. Pinto.**



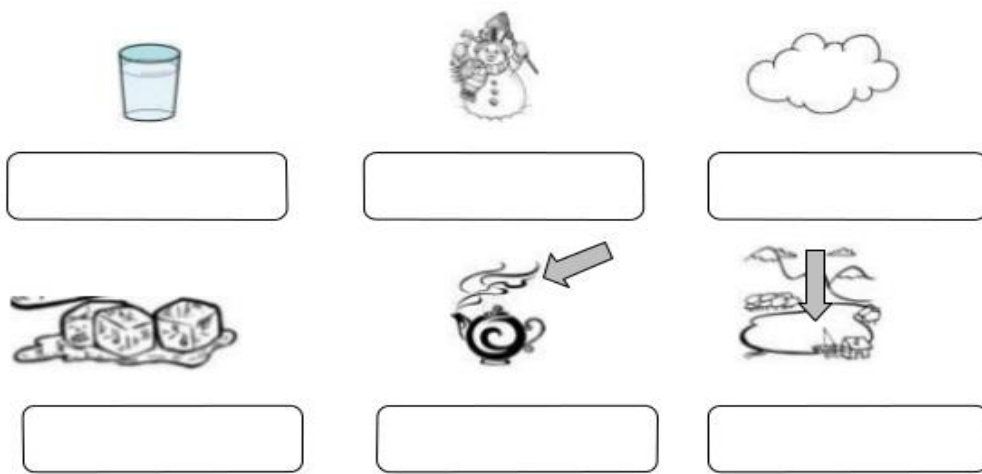
**5. De acuerdo a las características de cada animal, completo la tabla.**

	Peces	Anfibios	Reptiles	Aves	Mamíferos
Respiran por...					
Su cuerpo está cubierto por...					
Sus extremidades son...					
Su reproducción es...					

**6- Coloco una V si la oración es verdadera o F si es falsa.**

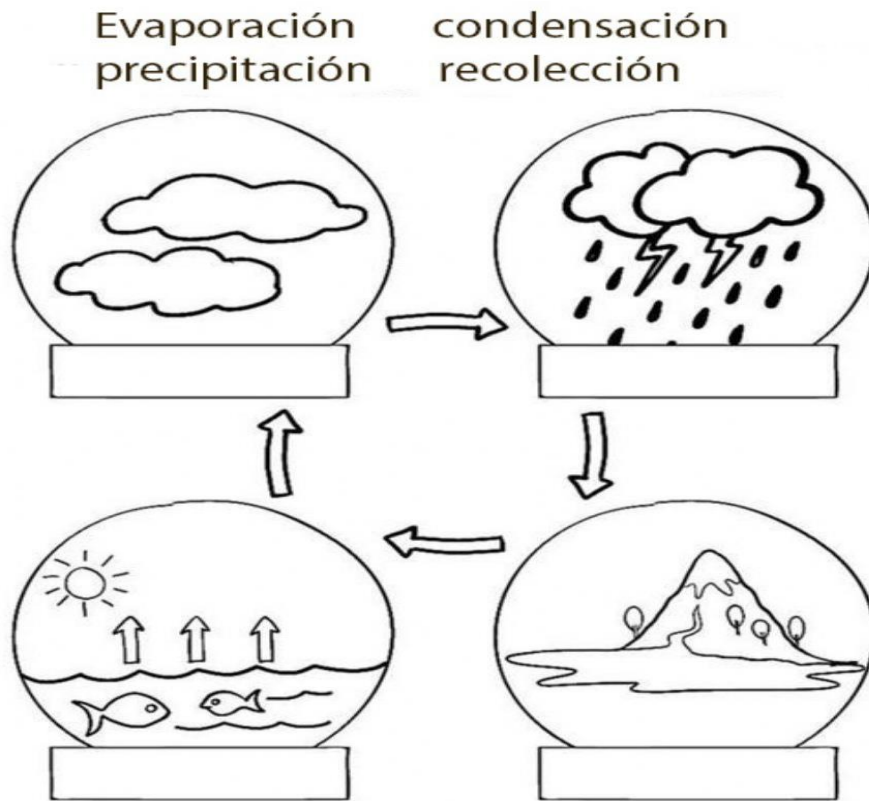
- 6.1. El Sol calienta el agua de mares y ríos y esa agua se evapora.....
- 6.2. El vapor de agua se condensa por el frío y forma la lluvia.....
- 6.3. Una vez evaporada el agua no se vuelve a formar.....
- 6.4. Cuando se forman las nubes se llama condensación .....

7- Observa los dibujos y escribe el estado en que se encuentran

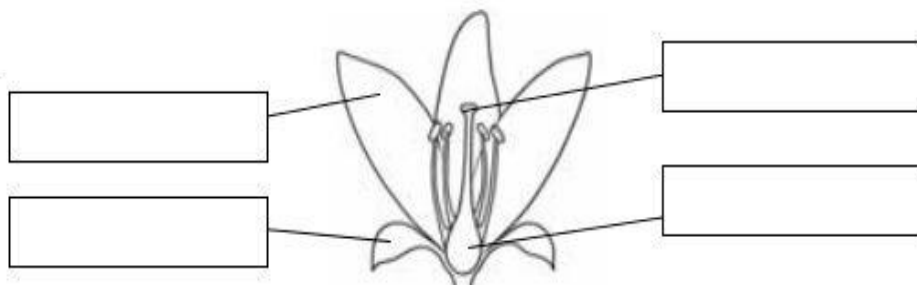


8-

Coloca las palabras en su lugar. Pinto



9- Escribe las partes de la flor señaladas. Pinto.



10- Clasifico a las siguientes muestras en homogénea o heterogénea.

10.1. Arroz con arveja.....

10.2. Agua con sal.....

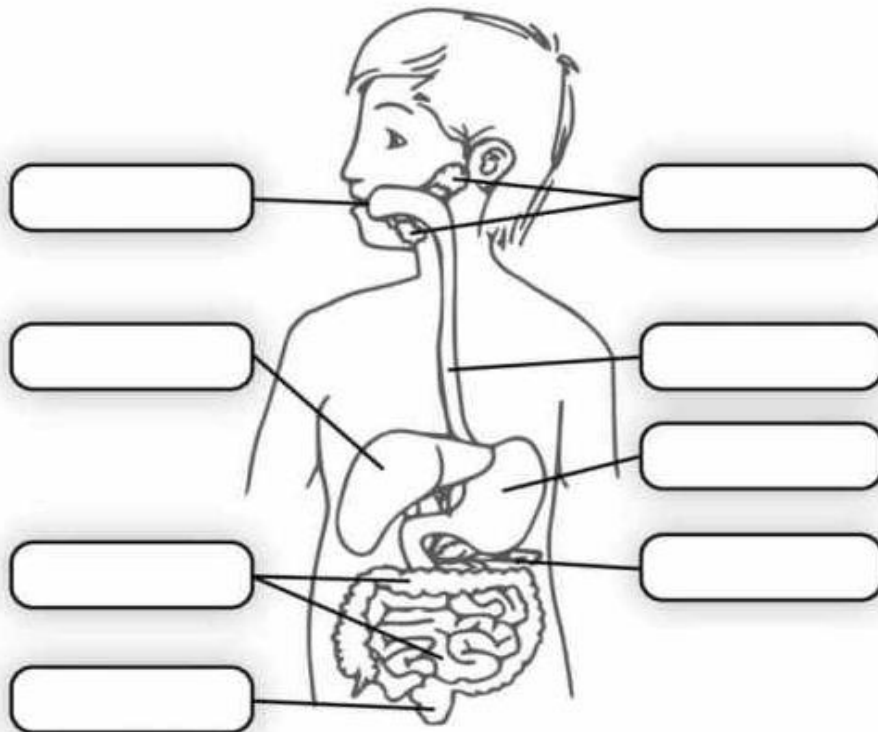
10.3. Café con azúcar.....

10.4. Leche con cereal.....

11- Tacha con una X el alimento intruso en cada grupo. Pinto



12- Escribo las partes del aparato digestivo. Pinto.



13. Completa con F si es falso y con V si es verdadero.

13.1. La forma de sólidos no cambia (.....)

13.2. El agua es un ejemplo del estado líquido (.....)

13.3. El volumen de los líquidos es constante (.....)

13.4. El aire es líquido (.....)

13.5. Al gas le podemos tocar y ver (.....)

14. Escribo un ejemplo de:

14.1. Arácnido: \_\_\_\_\_

14.2. Insecto: \_\_\_\_\_

14.3. Crustáceo: \_\_\_\_\_

14.4. Molusco: \_\_\_\_\_



15. Pinto a los cuadrado que contienen a las sustancias puras

TORTA	CUARZO	JUGOS	HIERRO
AGUA	JUGO	ORO	HELADO

16. De acuerdo a los gráficos escribo el cambio de estado al que pertenecen



17. Uno con flecha cada animal con su grupo. Pinto.



CRUSTACEOS

MOLUSCOS

ARACNIDOS

ANELIDO